


Examen



Tercer Trimestre

Secretaría de Educación Pública
Escuela Primaria Urbana o Rural

“ ”

C.C.T.:

Zona Escolar:

Sector:

Ciclo Escolar: 2021 - 2022

Grado: 1°

Grupo:

Examen Del Tercer Trimestre

Primer Grado



Examen Del Tercer Trimestre

Nombre del alumno: _____

Lugar y Fecha: _____

Nombre del maestro: _____

Nombre del padre de familia o tutor: _____

Asignatura	Reactivos	Aciertos	Calificación	Firma del padre o tutor
Lenguaje y comunicación	60			
Pensamiento Matemático	40			
Exploración y Conocimiento del Mundo	40			
PROMEDIO				

ESPAÑOL

1 y 2.- Encierra 2 palabras que se deben escribir con mayúsculas.

gato

carmen

balón

méxico

3 y 4.- Ahora escribe el nombre de 2 amigos o amigas.

Lee en voz alta junto con tu maestra.

El sol brillaba en el cielo. Loba Abuela entró en la guarida y preguntó:

- Lobo Chiquitito, ¿has visto que la tarde está estupenda para jugar en el bosque?

- Ya lo sé.

- Entonces, ¿qué haces ahí medio escondido?

- Medio escondido, no. Estoy bien escondido. ¿Piensas que voy a salir a jugar en una tarde así? ¡Ni loco! ¡Seguro que el bosque está lleno de niños!



5.- Según el cuento que acabas de leer, ¿cómo era el lobito del cuento? Colorea la respuesta correcta.





flojo

corajudo

tímido

feroz

6 a la 9.- Escribe el nombre de los siguientes animales.



10 a la 13.- Encierra las palabras que empiezan con mayúsculas en el siguiente texto.


Todos los domingos vamos a la casa de mi abuelito Simón. El vive en un pueblo que se llama Cuauhtémoc.

14 a la 18.- Escribe las mayúsculas de las siguientes letras.

p ___ v ___ r ___ b ___ a ___

19 a la 21.- Describe cómo eras de bebé. Toma en cuenta la entrevista que hiciste a tus familiares.

22 a la 24.- Ahora describe cómo eres ahora. Luego te dibujas.



25.- Escribe un momento importante de tu vida.

26 y 27.- Lee la descripción de Said de cuando era bebé. Ayúdale a ampliar su descripción.

Yo era un poco gordito y tenía poco pelo.



28 a la 30.- Escribe palabras con las letras de los nombres de los siguientes alimentos. No tienes que usar todas las letras. Observa el ejemplo.

calabaza




bala

plátano




manzana



jitomates



31 a la 33.- Ahora haz un dibujo tuyo de cómo eres ahora. Luego escribe una descripción.



34 a la 38.- Resuelve el crucigrama. Fíjate en las imágenes para saber cuáles palabras debes escribir.




The crossword puzzle grid consists of the following structure of empty cells:

- Row 1: 6 cells
- Row 2: 1 cell (under column 6 of Row 1), 1 cell (under column 4 of Row 1), 1 cell (under column 5 of Row 1), 1 cell (under column 6 of Row 1), 1 cell (under column 7 of Row 1), 1 cell (under column 8 of Row 1)
- Row 3: 1 cell (under column 4 of Row 2), 1 cell (under column 5 of Row 2), 1 cell (under column 6 of Row 2), 1 cell (under column 7 of Row 2), 1 cell (under column 8 of Row 2)
- Row 4: 1 cell (under column 4 of Row 2), 1 cell (under column 5 of Row 2), 1 cell (under column 6 of Row 2), 1 cell (under column 7 of Row 2), 1 cell (under column 8 of Row 2)
- Row 5: 1 cell (under column 4 of Row 2), 1 cell (under column 5 of Row 2), 1 cell (under column 6 of Row 2), 1 cell (under column 7 of Row 2), 1 cell (under column 8 of Row 2)
- Row 6: 1 cell (under column 4 of Row 2), 1 cell (under column 5 of Row 2), 1 cell (under column 6 of Row 2), 1 cell (under column 7 of Row 2), 1 cell (under column 8 of Row 2)

Clues and corresponding images:

- Scorpion (3 letters, across)
- Rabbit (6 letters, across)
- Shark (6 letters, across)
- Iguana (6 letters, down)
- Cat (3 letters, across)

39 a la 41.- Escribe las letras que faltan para completar los nombres de los siguientes animales.

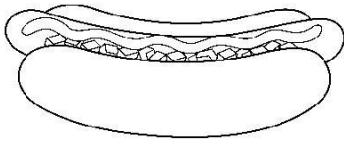




b _ _ _ o

m _ _ _ _ _ a

t _ _ _ _ _ a

41 a la 44.- Escribe cómo le dices a cada dibujo en tu localidad.



45 a la 47.- Encierra las palabras como te indique tu maestra.

- Con rojo donde dice árbol.
- Con azul donde dice ardilla.
- Con verde donde dice araña

ATÚN

árbol

araña

árbol

ARAÑA

atún

atún

ÁRBOL

araña

48 a la 50.- Lee con mucha atención las siguientes frases. Luego escribe de nuevo las frases pero separando las palabras correctamente.

Elperrocorre

Saidjuegafutbol

Mariohacelatarea

51.- Escribe el título de un cuento que quieras contar.

52.- Ahora anota el nombre de los personajes.

53 y 54.- Escribe el cuento en el siguiente espacio.

55 a la 59.- Cuenta las palabras que hay en cada frase y escribe en el recuadro cuántas son.

El gato maúlla.

Mi hermano juega basquetbol.

Luis ve una película.

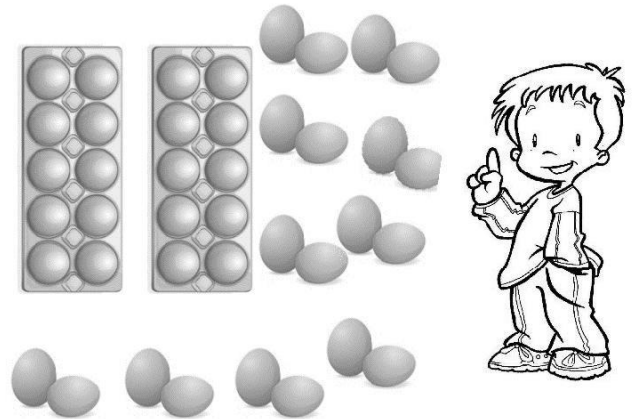
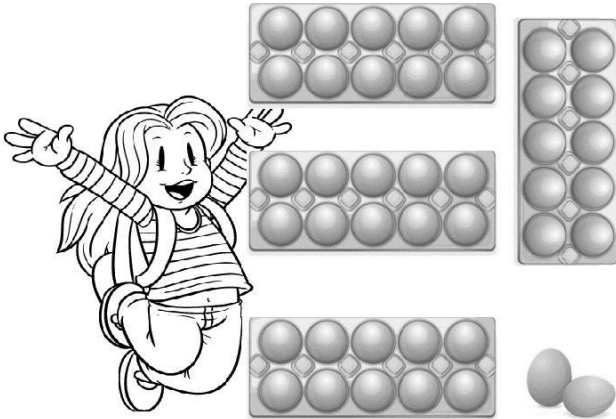
Los perros corren en el campo.

Mi papá limpia su carro.

60.- Escribe tu nombre completo.

MATEMÁTICAS

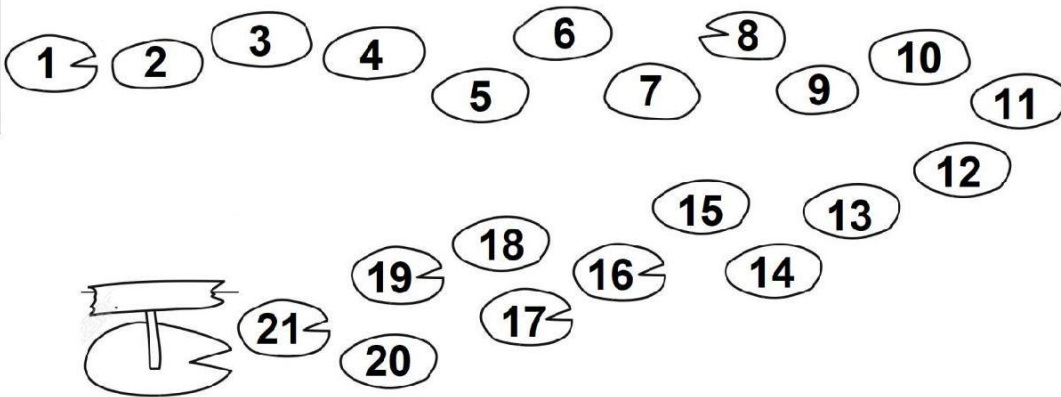
1 y 2.- Cuenta y escribe cuántos huevos tiene cada niño.



Fernanda tiene _____

José tiene _____

3.- La rana da saltos de 2 en 2. Colorea con verde las piedras por donde debe saltar la rana. (



4.- Continúa contando de 5 en 5 y escribe los números que faltan.

5	10	15						
---	----	----	--	--	--	--	--	--

5.- Ahora cuenta de 10 en 10 y escribe los números que faltan.




10								
----	--	--	--	--	--	--	--	--

6.- Sofía tenía 36 pesos y su papá le regaló 2 monedas de 10 pesos. ¿Cuánto dinero tiene ahora?



Sofía tendrá pesos .- Encierra


al niño que tiene más dinero.



8.- Luisa metió a su alcancía 63 pesos en monedas de \$10 y de \$1. Dibuja las monedas que metió Susana.



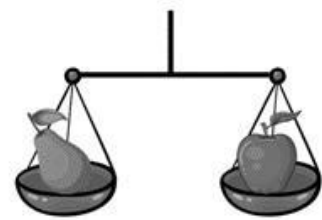


9.- Fernanda tiene 22 pesos y quiere comprar una muñeca que cuesta 55 pesos. Dibuja el dinero que le falta.



10 a la 12.- Observa cuánto dinero tiene cada niño. Luego escribe cuánto dinero le falta a cada uno para completar 100 pesos.

		
Itzel tiene \$85 Y le faltan ____	Marco tiene \$77 Y le faltan ____	Carlos tiene \$60 Y le faltan ____

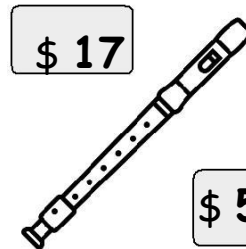
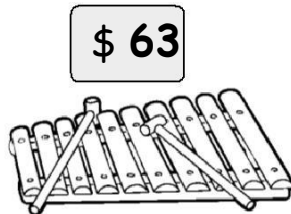
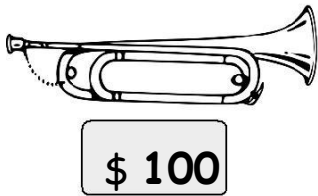
13 a la 15.- Observa las balanzas.



¿Cuál es la fruta más pesada? _____

¿Cuál es la fruta más liviana? _____

¿Cuáles frutas pesan igual? _____ y _____



16 y 17.- Observa lo que compró cada niño y escribe lo que debe de pagar.

Debe pagar _____ pesos

Debe pagar _____ pesos

18.- Luis se quiere comprar un xilófono, pero sólo tiene 37 pesos, ¿Cuánto dinero le falta?

Le faltan _____ pesos.

19.- Sofía tenía 32 pesos y se compró una flauta, ¿Cuánto dinero le sobró?

Le sobran _____ pesos.

20.- Carlos tiene 47 canicas, ¿cuántas canicas le faltan para tener 100?



Le faltan _____

21 y 22.- Escribe los días de la semana que le faltan al calendario del mes de mayo.




Domingo	Lunes		Miércoles		Viernes	
			1	2	3	4
5	6	7	8	9	10	11
12	13	14	15	16	17	18
19	20	21	22	23	24	25
26	27	28	29	30	31	

23 y 24.- Responde a las siguientes preguntas.



El día de las madres se festejó el 10 de mayo, ¿qué día de la semana fue?

¿Cuántas semanas completas tiene el mes de mayo?

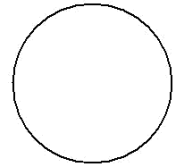
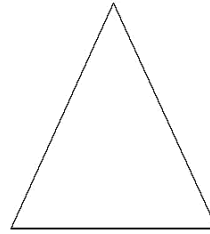


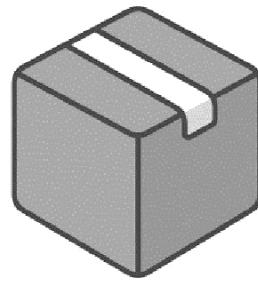

25 y 26- Encierra con azul la carretera más larga y tacha con rojo la más corta.







27.- Pide a tu maestra que te ayude a recortar las piezas, luego arma con ellas un rectángulo y pégalo aquí abajo.



28 a la 31.- Une el cuerpo geométrico con la huella que deja.

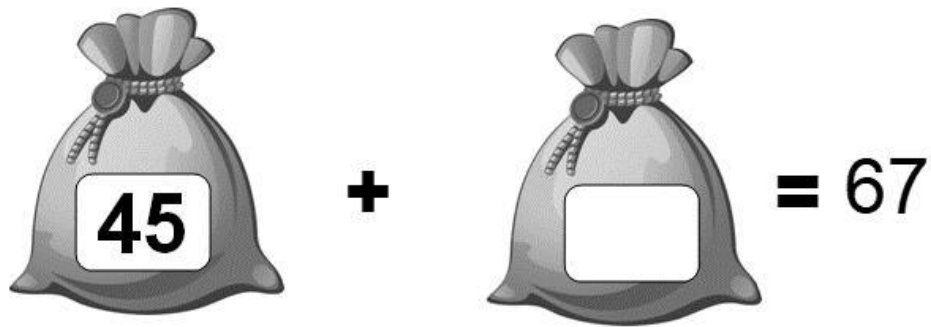


32.- Encierra el recipiente que tiene más agua.



33.- Dibuja un cuadrado y adentro del cuadrado dibuja un círculo.

34.- Marco tiene 67 canicas y las quiere acomodar en dos bolsas. Si a una bolsa ya le metió 45 canicas. ¿Cuántas canicas debe colocar en la segunda bolsa?



35.- ¿De qué otra manera distinta puede acomodar sus canicas?



36.- Fernando tiene 36 canicas, pero quiere tener 100. ¿Cuántas canicas le faltan?

Le faltan _____ canicas.

37.- Constanza tiene 2 alcancías, en una tiene 20 pesos y en la otra tiene 60 pesos. ¿Cuánto dinero tiene en total?

Constanza tiene _____ pesos.



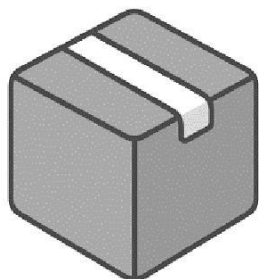
38.- Paola tiene dos cajas con galletas. En una tiene 19 y en la otra tiene 34.

¿Cuántas galletas tiene Paola?

Paola tiene _____ galletas.



39.- Encierra el objeto que NO puede rodar.



40.- Dibuja un cuadrado y adentro del cuadrado dibuja un triángulo.


CONOCIMIENTO DEL MEDIO

1 y 2.- Escribe 2 acuerdos que tienen en su casa para convivir mejor.

1.- _____

2.- _____

3.- Dibuja una responsabilidad que tienes en tu casa.




4 y 5.- Sergio y Mayra son hermanos y desean adoptar un gatito. ¿Cuáles son los acuerdos que deben establecer en su familia para poder llevar el gatito a su casa? Escríbelos.

6.- Dibuja las cosas que haces en tu casa para ayudar a tu familia.



7 a la 10.-Encierra con color azul a quienes cumplen con sus responsabilidades y tacha a los que no cumplen los acuerdos.



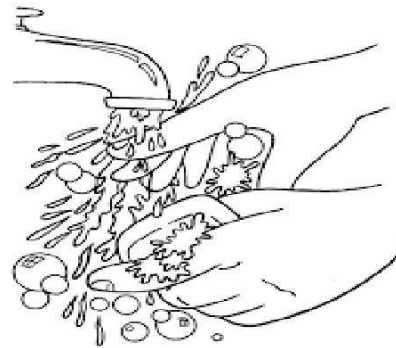
Observa la siguiente imagen con mucha atención.



11.- ¿Cuál es el problema que observas?

12 y 13.- Escribe 2 cosas que se pueden hacer para solucionar el problema.


Observa las siguientes imágenes.

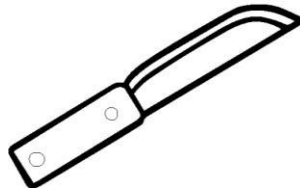


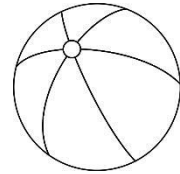
14.- ¿Cuál es el problema que observas?

15 y 16.- Escribe 2 acciones que se pueden hacer para cuidar el agua.

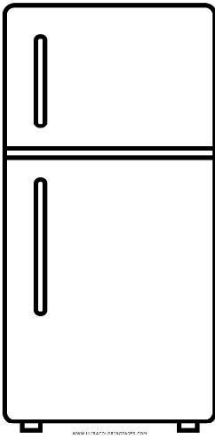
17 a la 19.- Escribe de qué material está hecho cada objeto.




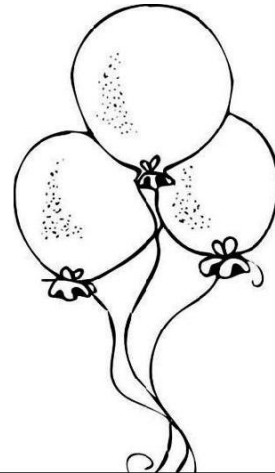




20 a la 25.- Escribe las características de los siguientes objetos, menciona si son rígidos, flexibles, ásperos, suaves, ligeros o pesados.








26 a la 32.- Escribe en el árbol genealógico lo siguiente:

- Tu nombre.
- El nombre de tu papá y de tu mamá.
- Cómo se llaman los papás de tu papá. (abuelos paternos)
- Cómo se llaman los papás de tu mamá. (abuelos maternos)



33.- Escribe lo que hace tu familia cuando te sientes triste.



34.- ¿Qué hace tu familia cuando estás enfermo?



35.- Escribe algún acontecimiento importante de tu familia que ocurrió antes de que tú nacieras.

36 a la 38.- ¿Cómo puedes mover los siguientes objetos?







39 y 40.- Encierra los objetos que se pueden deformar al empujarlos o jalarlos.



Como sabemos que te interesa la educación de tu hij@ o alumn@s, te acabas de ganar 2 apps de matemáticas gratis. Solo por ser miembros de Channelkids.

Enlaces de descarga
<https://cutt.ly/JKfx5s5>



MATHEASY

GRATIS

MATEMÁTICAS DIVERTIDAS

Three smartphones are shown, each displaying a different screen of the Matheasy app. The first phone shows the main menu with options for 'Adición', 'Mesa de...', 'Opción', 'Entrada', 'Verdader...', 'Encuentr...', 'Duelo', 'Sustracción', and 'Multiplicación'. The second phone shows a math problem '42 + 24 = 56' with a green checkmark button and a red 'X' button. The third phone shows a math problem '83 + ? = 138' with a grid of answer options: 55, 65, 45, and 75. The background features a colorful rainbow and a red starburst with the word 'GRATIS'.

DISPONIBLE EN
Google Play

Como sabemos que te interesa la educación de tu hij@ o alumn@s, te acabas de ganar 2 apps de matemáticas gratis. Solo por ser miembros de Channelkids.

Enlaces de descarga
<https://cutt.ly/rKfccrk>



MATHRIX

JUEGA CON LAS MATEMÁTICAS

GRATIS



DISPONIBLE EN
Google Play